




Avant de tracer ta figure, vérifie bien si on t'a donné les longueurs des côtés ou des diagonales !



## Les quadrilatères

Troublesneurovisuels.unblog.fr

### Définition

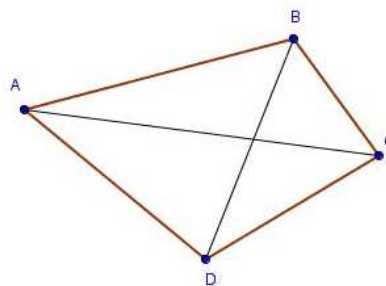
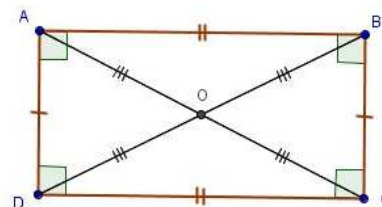


Figure qui a 4 côtés

A, B, C, D sont les **sommets**  
 [AB] et [BC] sont des **côtés consécutifs**  
 [AB] et [DC] sont des **côtés opposés**  
 [AC] et [BD] sont des **diagonales**

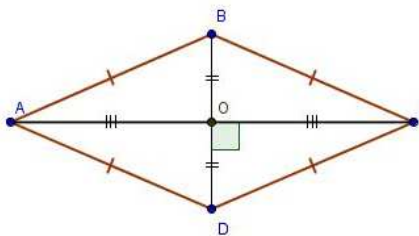
### Quadrilatères particuliers



Rectangle

Les **côtés opposés** ont la même longueur  
 4 **angles droits**

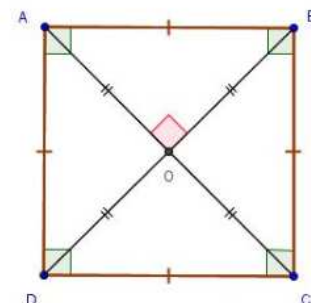
Les **diagonales** { se coupent en leur milieu  
 ont la même longueur



Losange

Les **quatre côtés** ont la même longueur

Les **diagonales** { se coupent en leur milieu  
 sont **perpendiculaires**.



Carré

Les **quatre côtés** ont la même longueur  
 4 **angles droits**

Les **diagonales** { ont la même longueur  
 se coupent en leur milieu  
 sont **perpendiculaires**.