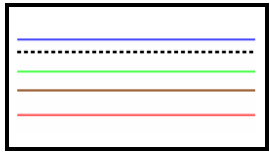
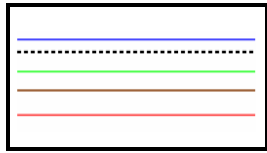


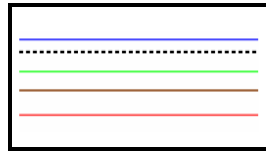
Classe les nombres du plus grand au plus petit



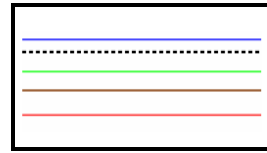
>



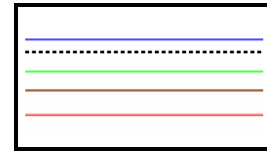
>



>



>



Quel est le nombre le plus petit ?

Quel est le nombre le plus grand ?

Quel est le nombre qui est compris **entre** et ?

